

Prénom : ..... Date : .....

---

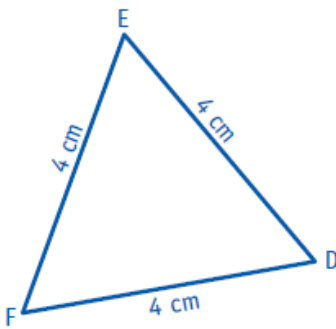
## Les triangles

---

- Décrire et identifier des triangles.
- Reproduire et construire des triangles.

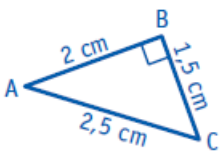
*Faites ces exercices sur une feuille libre. Pour les parents, vérifiez bien les mesures ( Tolérez 1 mm).  
J'ai mis une vidéo sur le site dans la partie Maths pour revoir comment construire.*

1. Reproduis le triangle EDF.



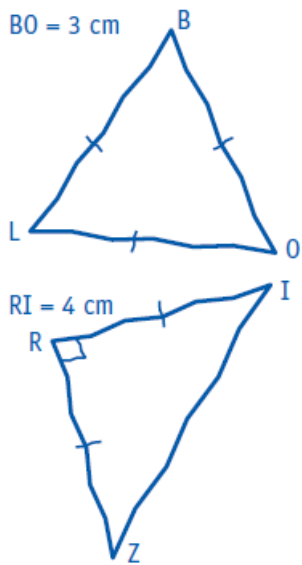
× E

2. Reproduis le triangle ABC en doublant ses dimensions.



× B

3. Reproduis ces triangles dessinés à main levée avec tes instruments de géométrie en respectant les indications du codage et les dimensions.



4- Trace un triangle DUR, isocèle rectangle en U.  $DU = 3,5 \text{ cm}$ .