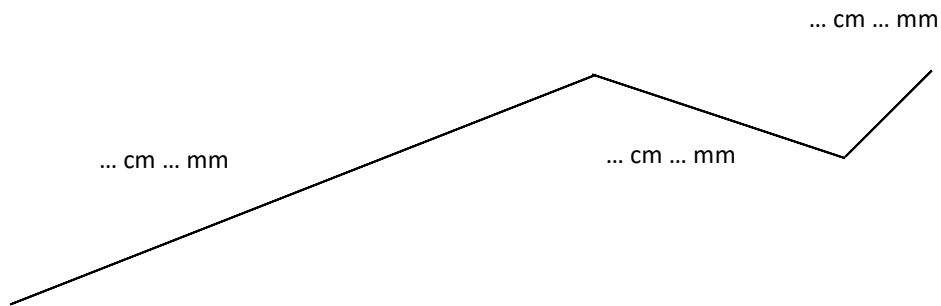


Exercice 1:

1- Mesure chaque morceau de cette ligne brisée.




2- Quelle est la longueur totale de la ligne ?

Donne la longueur totale de la ligne : ... cm et ... mm

Donne la longueur uniquement en millimètres : ... mm

Exercice 2:

1- Mesure le contour de cette figure :



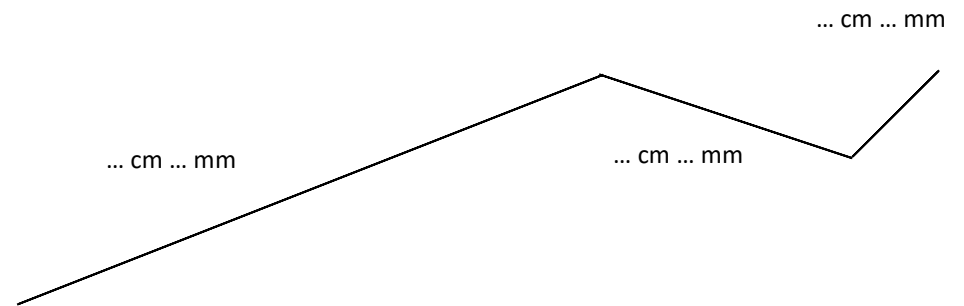
Donne la longueur totale de la ligne : ... cm et ... mm

Donne la longueur uniquement en millimètres : ... mm

Donne la longueur uniquement en décimètres : ... dm

Exercice 1:

3- Mesure chaque morceau de cette ligne brisée.




4- Quelle est la longueur totale de la ligne ?

Donne la longueur totale de la ligne : ... cm et ... mm

Donne la longueur uniquement en millimètres : ... mm

Exercice 2:

2- Mesure le contour de cette figure :



Donne la longueur totale de la ligne : ... cm et ... mm

Donne la longueur uniquement en millimètres : ... mm

Donne la longueur uniquement en décimètres : ... dm