

Table de 3

Nom: _____

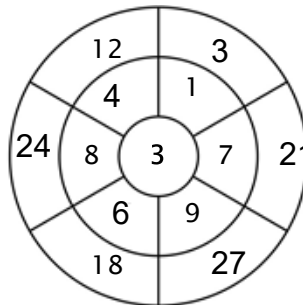
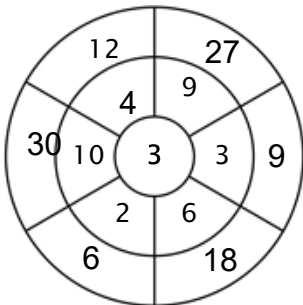
Exercice 1 :

Colorie toutes les boîtes qui sont la solution de cette table de multiplication.

24	29	9	24	28
22	30	12	9	16
18	38	5	2	11
12	1	15	21	14
17	3	31	21	8

Exercice 2 :

Complète le cercle en multipliant le chiffre au centre par l'anneau central pour obtenir les chiffres extérieurs.



Exercice 3 :

Entre le produit correct.

a) $3 \times 9 = \underline{27}$

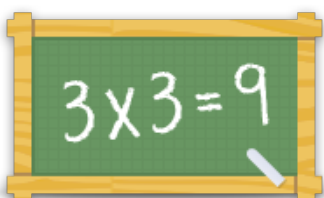
b) $3 \times 5 = \underline{15}$

c) $3 \times 2 = \underline{6}$

d) $3 \times 8 = \underline{24}$

e) $3 \times 4 = \underline{12}$

f) $3 \times 10 = \underline{30}$



Pour plus de feuilles de calcul, jeux et exercices :
www.tablesdemultiplication.fr