

Table de 3

Nom: _____

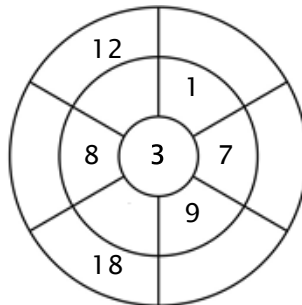
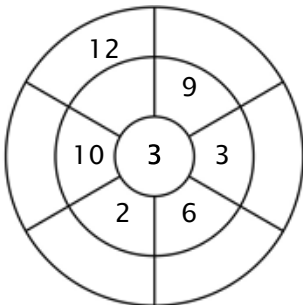
Exercice 1 :

Colorie toutes les boîtes qui sont la solution de cette table de multiplication.

24	29	9	24	28
22	30	12	9	16
18	38	5	2	11
12	1	15	21	14
17	3	31	21	8

Exercice 2 :

Complète le cercle en multipliant le chiffre au centre par l'anneau central pour obtenir les chiffres extérieurs.



Exercice 3 :

Entre le produit correct.

a) $3 \times 9 =$ _____

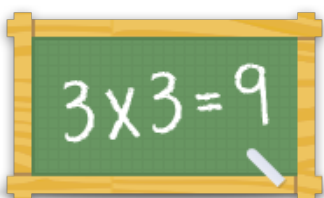
b) $3 \times 5 =$ _____

c) $3 \times 2 =$ _____

d) $3 \times 8 =$ _____

e) $3 \times 4 =$ _____

f) $3 \times 10 =$ _____



Pour plus de feuilles de calcul, jeux et exercices :
www.tablesdemultiplication.fr