



Les espaces français

Quand on parle de la France, on pense d'abord à la métropole située à l'ouest de l'Europe, où se trouve la capitale, Paris. Mais la France est aussi composée de nombreux territoires répartis à travers le monde : c'est la France d'Outre-Mer. Ces territoires sont liés aux nombreuses colonies que notre pays a possédées dans son passé à travers le monde. Ce sont tous des îles, sauf la Guyane qui se trouve en Amérique du sud.

Ces territoires lointains sont :

- Des DROM (Départements ou Régions d'Outre-Mer).

Ils dépendent de la métropole. Ils ont le même gouvernement, la même langue et la même capitale. Ce sont la Guadeloupe, la Martinique, la Guyane, la Réunion et Mayotte.



Guadeloupe



Guyane

- Des COM (Collectivités d'Outre-Mer). Ils appartiennent à la France mais ont leur propre administration. Elles sont plus indépendantes.

Ce sont Saint-Pierre et Miquelon, les îles Saint-Martin et Saint-Barthélemy, Wallis et Futuna, la Nouvelle-Calédonie, la Polynésie française (Tahiti, Bora Bora...).



Tahiti



Terre Adélie

- Les TAAF (Terres Australes et Antarctiques Françaises) : Ce sont la Terre Adélie et plein d'autres îles proches du Pôle Sud.

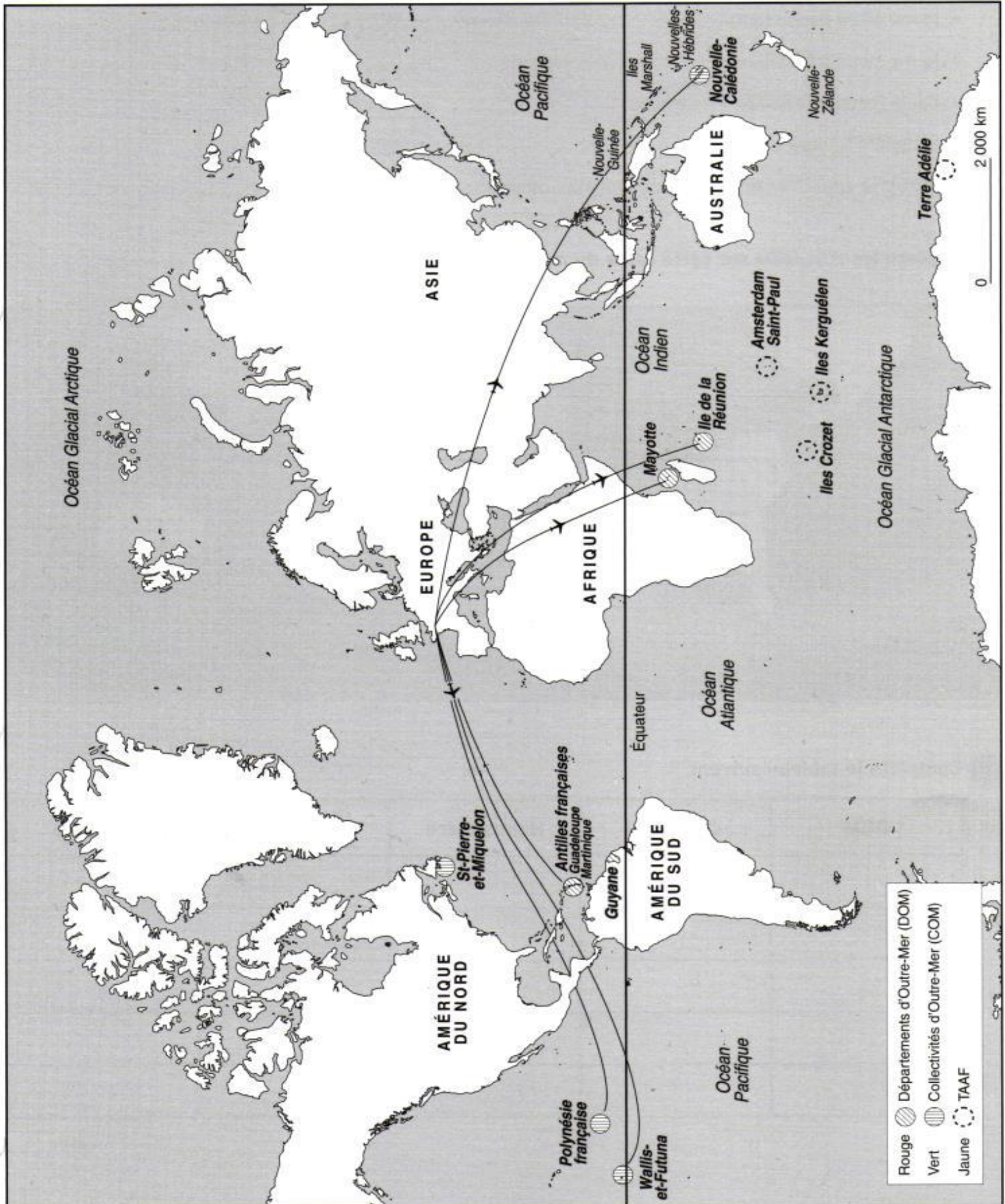
Il n'y a pas d'habitants fixes. Ce sont des scientifiques ou des militaires qui y vivent.



Les espaces français

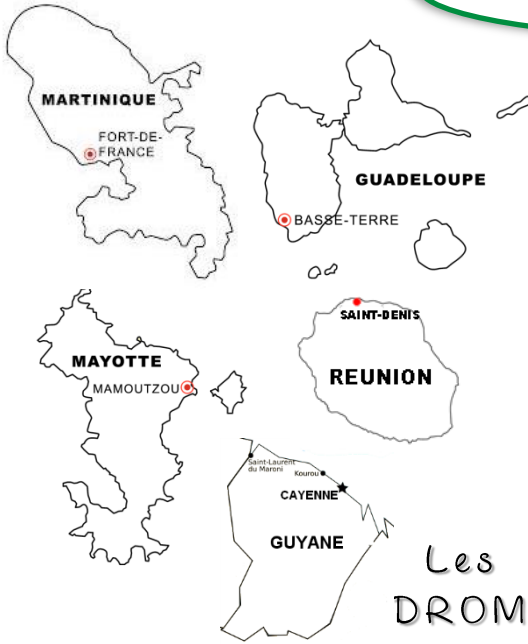
2 Sur la carte ci-dessous :

Colorie les territoires de la France d'outre-mer selon la légende proposée.





Les espaces français



2

En t'aidant des documents, retrouve de quoi il s'agit.

- 1 Je suis un DROM dans l'océan indien.
- 2 Je suis une COM en plein milieu du pacifique connu pour son île de Tahiti.
- 3 Je suis le seul DROM qui n'est pas une île.
- 4 J'ai la forme d'un papillon.
- 5 Mon chef-lieu est Fort de France
- 6 Je suis la plus grande île des COM.

Réponses :

1. _____
2. _____
3. _____
4. _____
5. _____
6. _____



DROM

superficie

habitants

Guadeloupe

1 800 km²

428 000 hab.

Martinique

1 100 km²

385 000 hab.

Guyane

84 000 km²

161 000 hab.

La Réunion

2 500 km²

716 000 hab.

Mayotte

374 km²

8 000 hab.

COM

superficie

habitants

Nouvelle-Calédonie

19 000 km²

213 000 hab.

Polynésie française

4 000 km²

235 000 hab.

Wallis-et-Futuna

255 km²

14 000 hab.

Saint-Pierre-et-Miquelon

242 km²

6 000 hab.

3

Vrai ou faux ?

- 1 La métropole regroupe tous les territoires français dans le monde. _____
- 2 Les habitants de Martinique parlent le français. _____
- 3 La Guyane est une île dans le Pacifique. _____
- 4 L'île de la Réunion se trouve dans l'Océan Indien. _____
- 5 Les habitants des TAAF habitent dans des igloos. _____
- 6 Les TAAF se trouvent au Pôle Nord. _____



Les espaces français

La population des DROM est différente que celle de la métropole car ses habitants ont des origines diverses : les békés (descendants des premiers colons), des descendants d'esclaves venus d'Afrique, des créoles, des métisses et des Métropolitains. Ces mélanges procurent une grande richesse culturelle.

4 Réponds aux questions

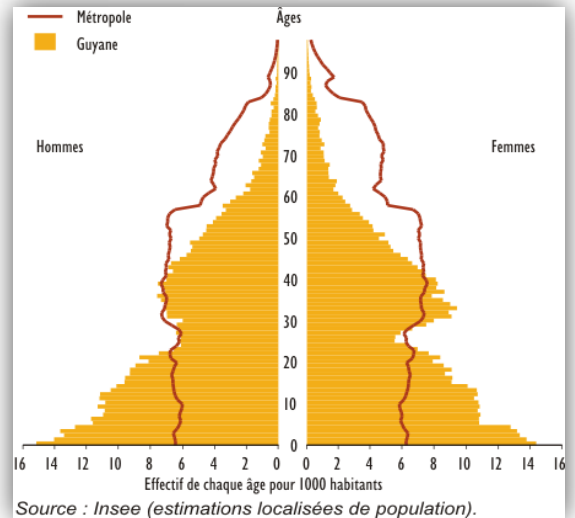
- 1 Depuis quelle année Mayotte fait-elle partie des DROM ? _____
- 2 De quoi est composée la population des DROM ?

- 3 Observe la pyramide des âges : comment est la population de la Guyane par rapport à celle de la France ? _____

- 4 Pourquoi les jeunes partent-ils vers la métropole ? _____

Le sais-tu ?

Mayotte constitue depuis 2011 le 5^{ème} département d'Outre-Mer. Cette île, qui fait partie de l'Archipel des Comores, est rattachée à la France depuis 1941. En 1975, alors que les autres îles sont devenues indépendantes, Mayotte a choisi de rester française. Sa population est très diverse.



Depuis 1950, la population des DROM a doublé. L'accroissement naturel est bien supérieur à celui de la Métropole. C'est une population jeune qui a de plus en plus de difficulté à trouver un emploi. Le taux de chômage est très élevé d'où le départ de jeunes vers la Métropole.

- 5 De quoi proviennent les ressources des DROM ?

- Pour les Antilles et la Réunion :

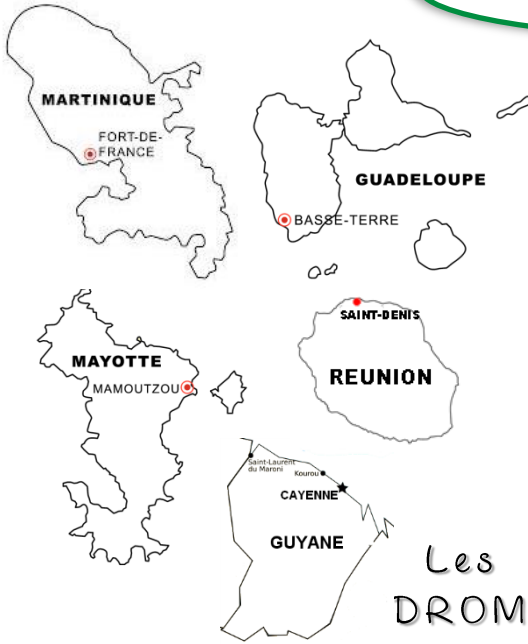
- Pour la Guyane :



Les Antilles (Martinique et Guadeloupe) et la Réunion pratiquent des cultures tropicales (canne à sucre, banane, ananas, noix de coco). Cette agriculture dépend étroitement de la Métropole. Les productions locales étant insuffisantes pour satisfaire les besoins de la population, les importations sont très largement supérieures aux exportations. Les ressources des DROM proviennent essentiellement du tourisme qui s'appuie sur les atouts naturels des trois îles. L'essor de la Guyane repose sur le centre spatial de Kourou.



Les espaces français



2

En t'aidant des documents, retrouve de quoi il s'agit.

- ❶ Je suis un DROM dans l'océan indien.
- ❷ Je suis une COM en plein milieu du pacifique connu pour son île de Tahiti.
- ❸ Je suis le seul DROM qui n'est pas une île.
- ❹ J'ai la forme d'un papillon.
- ❺ Mon chef-lieu est Fort de France
- ❻ Je suis la plus grande île des COM.

Réponses :

1. **L'île de la Réunion**
2. **La Polynésie française**
3. **La Guyane**
4. **La Guadeloupe**
5. **La Martinique**
6. **La Nouvelle-Calédonie**



DROM

superficie

habitants

Guadeloupe
Martinique
Guyane
La Réunion
Mayotte

1 800 km²
1 100 km²
84 000 km²
2 500 km²
374 km²

428 000 hab.
385 000 hab.
161 000 hab.
716 000 hab.
8 000 hab.

COM

superficie

habitants

Nouvelle-Calédonie
Polynésie française
Wallis-et-Futuna
Saint-Pierre-et-Miquelon

19 000 km²
4 000 km²
255 km²
242 km²

213 000 hab.
235 000 hab.
14 000 hab.
6 000 hab.

3

Vrai ou faux ?

- ❶ La métropole regroupe tous les territoires français dans le monde.
- ❷ Les habitants de Martinique parlent le français.
- ❸ La Guyane est une île dans le Pacifique.
- ❹ L'île de la Réunion se trouve dans l'Océan Indien.
- ❺ Les habitants des TAAF habitent dans des igloos.
- ❻ Les TAAF se trouvent au Pôle Nord.

Faux

Vrai

Faux

Vrai

Faux

Faux



Les espaces français

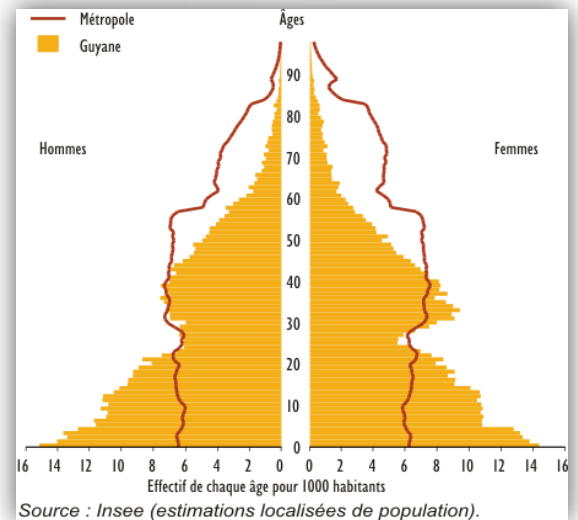
La population des DROM est différente que celle de la métropole car ses habitants ont des origines diverses : les békés (descendants des premiers colons), des descendants d'esclaves venus d'Afrique, des créoles, des métisses et des métropolitains. Ces mélanges procurent une grande richesse culturelle.

4 Réponds aux questions

- Depuis quelle année Mayotte fait-elle partie des DROM ? **2011**
- De quoi est composée la population des DROM ? **Békés, descendants d'esclaves d'Afrique, créoles, métisses et métropolitains**
- Observe la pyramide des âges : comment est la population de la Guyane par rapport à celle de la France ? **Il y a beaucoup plus de jeunes et beaucoup moins de personnes âgées.**
- Pourquoi les jeunes partent-ils vers la métropole ? **Parce qu'ils ne trouvent pas de travail.**

Le sais-tu ?

Mayotte constitue depuis 2011 le 5^{ème} département d'Outre-Mer. Cette île, qui fait partie de l'Archipel des Comores, est rattachée à la France depuis 1941. En 1975, alors que les autres îles sont devenues indépendantes, Mayotte a choisi de rester française. Sa population est très diverse.



Depuis 1950, la population des DROM a doublé. L'accroissement naturel est bien supérieur à celui de la Métropole. C'est une population jeune qui a de plus en plus de difficulté à trouver un emploi. Le taux de chômage est très élevé d'où le départ de jeunes vers la Métropole.

- De quoi proviennent les ressources des DROM ?
 - Pour les Antilles et la Réunion : **Du tourisme**
 - Pour la Guyane : **du centre spatial de Kourou**



Les Antilles (Martinique et Guadeloupe) et la Réunion pratiquent des cultures tropicales (canne à sucre, banane, ananas, noix de coco). Cette agriculture dépend étroitement de la Métropole. Les productions locales étant insuffisantes pour satisfaire les besoins de la population, les importations sont très largement supérieures aux exportations. Les ressources des DROM proviennent essentiellement du tourisme qui s'appuie sur les atouts naturels des trois îles. L'essor de la Guyane repose sur le centre spatial de Kourou.



Je retiens

- L'espace français est composé de la _____ et de la France d'_____ - _____. Ce sont tous des _____ sauf _____.
- Les DROM (_____ et _____ d'Outre-Mer) ont le même gouvernement, la même langue et la même _____ de la France comme n'importe quel département français.
 - Les COM (collectivités d'Outre-Mer) : territoires qui appartient à la _____ mais qui sont _____.
 - Les TAAF (Terres Australes et Antarctiques Françaises) : Il n'y a pas d'habitants mais des _____ et des _____.
- La population des DROM est plus _____ que celle de la Métropole et elle est aussi très _____ de par ses origines multiples. Les îles vivent principalement du _____. Leur agriculture tropicale (cane à sucre, ananas, bananes, noix de coco) est _____. Le développement de la Guyane repose sur son centre _____ de _____.



Ce que je dois savoir

- 1) Savoir situer sur un planisphère les DROM-COM
- 2) Connaître le nom des 5 DROM ainsi que leur forme





Je retiens

- L'espace français est composé de la **Métropole** et de la France d'**outre-mer**. Ce sont tous des **îles** sauf **la Guyane**.
- Les DROM (**départements** et **régions** d'Outre-Mer) ont le même gouvernement, la même langue et la même **capitale** de la France comme n'importe quel département français.
- Les COM (collectivités d'Outre-Mer) : territoires qui appartient à la **France** mais qui sont **indépendantes**.
- Les TAAF (Terres Australes et Antarctiques Françaises) : Il n'y a pas d'habitants mais des **scientifiques** et des **militaires**.
- La population des DROM est plus **jeune** que celle de la Métropole et elle est aussi très **diverse** de par ses origines multiples. Les îles vivent principalement du **tourisme**. Leur agriculture tropicale (cane à sucre, ananas, bananes, noix de coco) est **exportée**. Le développement de la Guyane repose sur son centre **spatial** de **Kourou**.



Ce que je dois savoir

- 1) Savoir situer sur un planisphère les DROM-COM
- 2) Connaître le nom des 5 DROM ainsi que leur forme

