

Nom : .....

Date : .....

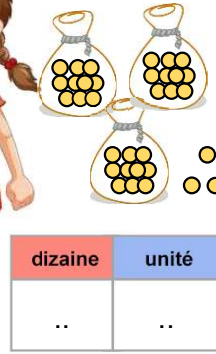
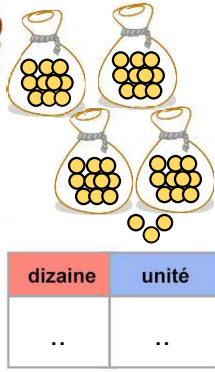
- Comparer et ranger les nombres en utilisant les signes comparatifs.

Exercices

Comparer et ranger les nombres à 2 chiffres

1

Qui a le plus de billes ?



Le plus grand nombre c'est celui qui a le plus de **dizaines**

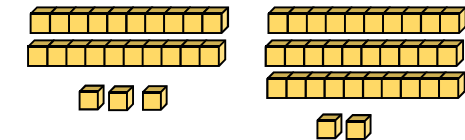
Thomas a .. billes.

Léa a .. billes.

..... a plus de billes que .....

2

Ecris le nombre de cubes.



dizaine	unité	dizaine	unité
..	..	..	..

...

...

3

Colorie le plus grand nombre **rouge** et le plus petit en **vert**.

38    28    18    48

33    47    56    29

4

Range du plus grand au plus petit.

47    17    24    38    54

...    ...    ...    ...    ...

5

Ecris > ou <

47 . 17    51 . 37

18 . 28    34 . 44